

FINIS 8.



ŞANLIURFA İL MİLLÎ EĞİTİM MÜDÜRLÜĞÜ

DENEME SINAVI

Ar-Ge Birimi Çalışmasıdır

- ❖ Bu Deneme Sınavı Fen Bilgisi, İngilizce ve T.C İnkılap Tarihi ve Atatürkçülük derslerinden oluşmaktadır.
- ❖ Sınav 60 soru üzerinden 80 dakikadır.

TEOG
2. OTURUM

DİZGİ & TASARIM

İBRAHİM CANBEK

MEHMET BOZKURT

1.

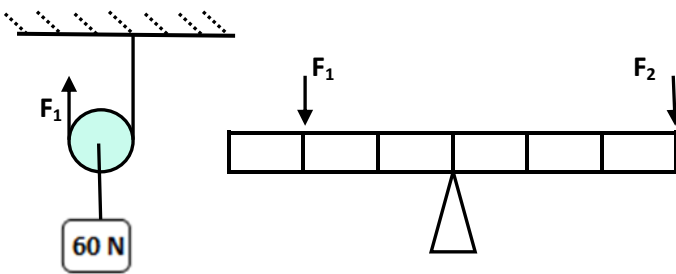


Eşref hoca akıllı tahtaya iki farklı hücre bölünmesi yansıtmış ve öğrencilerin dikkatini üzerine çekmek istemiştir.

Yukarıdaki metinde boş bırakılan yere aşağıdakilerden hangisi gelebilir?

- A) Mitoz ve mayoz bölünme arasındaki farklar
- B) Hangi hücrelerde mitoz bölünmenin gerçekleştiği
- C) Mitoz sonucunda iki hücre oluştuğu
- D) Bitki ve hayvan hücrelerinde sitoplazma bölünme aşamaları

2.

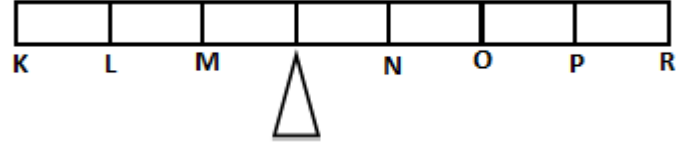


Yukarıdaki şekillerde makara sistemi F_1 , kaldıraç sistemi F_1 ve F_2 kuvvetleri ile dengelenmiştir.

Buna göre F_2 kuvvetinin büyüklüğü kaç N olmalıdır? (Makara ağırlıkları ve sürtünmeler önemsizdir)

- A) 10 N
- B) 20 N
- C) 30 N
- D) 60 N

3.



Yukarıdaki kaldıraç sistemine ağırlıkları 10 N ve 15 N olan iki cisim hangi noktalara konulursa sistem dengede olur?

- | | 10 N | 15 N |
|----|------|------|
| A) | K | P |
| B) | L | N |
| C) | K | O |
| D) | M | R |

4. "Dünya - Türkiye - Şanlıurfa - Bozova"

Yukarıda birbiriyle ilişkilendirilmiş yerleşim yerleri verilmiştir.

Hücre içerisinde yer alan " DNA, Kromozom, Nükleotid, Gen' " yapıları ile yukarıdaki kavramlar arasında benzerlik kurarak eşleştiriliyor. Eşleştirme sonuçlarını büyükten küçüğe doğru sıralarsak sondan ikinci kavram aşağıdakilerden hangisi olur?

- A) Gen - Şanlıurfa
- B) Gen - Türkiye
- C) Nükleotid - Bozova
- D) DNA - Şanlıurfa

ŞANLIURFA İL MİLLİ EĞİTİM MÜDÜRLÜĞÜ AR-GE BİRİMİ ÇALIŞMASIDIR

5.



Yukarıda dişi ve erkek üreme sistemiyle ilgili şekiller verilmiştir.

Bu şekillere göre hangi ifade yanlıştır?

- A) Şekil A'da verilen dişi üreme sisteminde 1 ile gösterilen yapıda dişi üreme hücresi üretilir.
- B) Şekil B'de 1 ile gösterilen yapı vücut dışında bulunur ve erkek üreme hücresini üretir.
- C) Şekil A'da 3 ile gösterilen yapı döl yatağıdır ve döllenme olayı burada gerçekleşir.
- D) Şekil B'de 2 ile gösterilen yapı salgı bezleridir ve spermilere kaygan bir ortam oluşturarak hareketini kolaylaştırır.

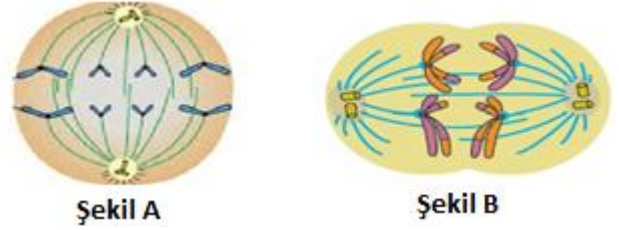
6. I- Bütün kedilerin kromozom sayısının 38 olması

II- Deniz yıldızının kopan kısmını onarması

Yukarıda yapılan açıklamaların gerçekleşmesinde etkili olan hücre bölünmesi aşağıdakilerin hangisinde doğru şekilde verilmiştir?

- A) Her iki açıklamada da mayoz etkili olmuştur.
- B) I de mayoz, II de mitoz bölünme etkili olmuştur.
- C) I de mitoz, II de mayoz bölünme etkili olmuştur.
- D) Her iki açıklamada da mitoz etkili olmuştur.

7.



Hücre bölünmesine ait evrelerle ilgili;

I- Şekil A mayoz, Şekil B ise mitoz bölünmeye aittir.

II- Şekil A'da homolog kromozomlar birbirinden ayrılmaktadır.

III- Şekil B'de kardeş kromatidler ayrılmaktadır.

IV- Her iki şekilde de çekirdek bölünmesi tamamlanmamıştır.

bilgilerden hangileri yanlıştır?

A) I - II - III

B) II - III - IV

C) I - II - IV

D) II - III

8. -Yumurta üretimi ve adet görme

- Sakal ve bıyık çıkması
- Sperm üretiminin başlaması
- Ses kalınlaşması
- Göğüslerin belirginleşmesi
- Yüzde sivilce oluşumu

Yukarıda ergenlik döneminde erkek ve kızlarda görülen fiziksel değişimler verilmiştir.

Bunlardan kaç tanesi sadece erkeklerde görülen değişimlerdir?

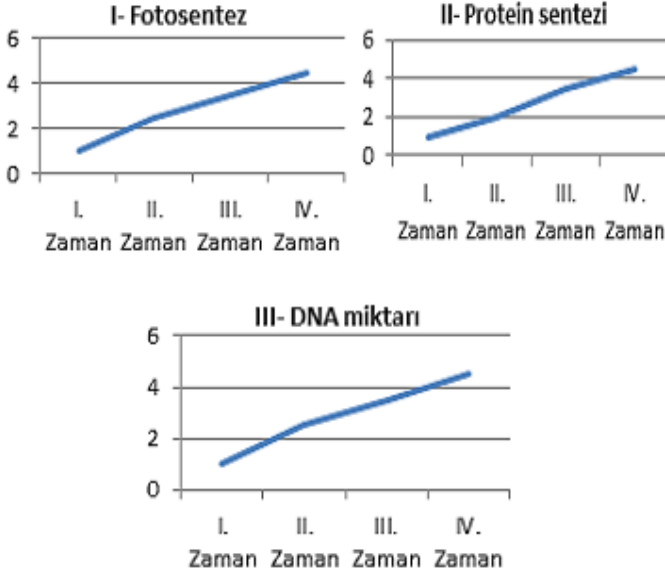
A) 6

B) 5

C) 4

D) 3

9.

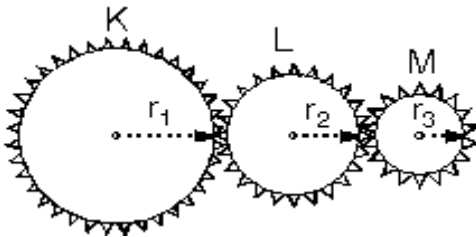


Yukarıda hücre içinde gerçekleşen olayların zamana göre değişimlerini gösteren grafikler verilmiştir.

Bu grafiklerden hangileri hücrenin bölüneceğinin kesin ispatı olabilir?

- A) Yalnız III B) I ve II C) II ve III D) I, II ve III

10.

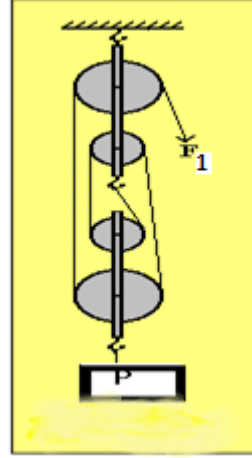


Yukarıdaki dişli çarklarla ilgili yapılan yorumlardan hangisi **doğrudur**?

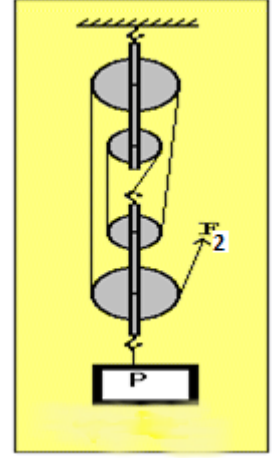
- A) K ile L aynı yönde dönerler
B) K ile M zıt yönde dönerler
C) L ile M aynı yönde dönerler
D) K ile M aynı yönde dönerler

11.

Şekil I



Şekil II



I- "Yükü taşıyan ip sayısı arttıkça uygulanması gereken kuvvet azalır." Hipotezini test etmek için hazırlamıştır.

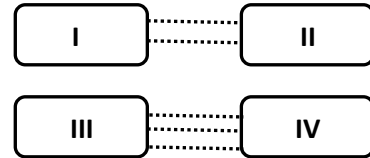
II- Uygulanan kuvvet bağımsız, ip sayısı ise bağımlı değişkendir.

III- İplerin uzunluğu ve makara ağırlıkları sabit tutulan değişkenlerdir.

Ertuğrul'un hazırlamış olduğu düzeneklerle ilgili verilen bilgilerden hangileri doğrudur?

- A) Her üç bilgi de doğrudur
B) 1 ve 2. bilgi doğru, 3. bilgi yanlıştır.
C) 1. Ve 3. bilgi doğru, 2. bilgi yanlıştır.
D) Her üç bilgi de yanlıştır.

12.



Yukarıda DNA' nın yapısında bulunan nükleotidlerle ilgili aşağıdakilerden hangisi **yanlıştır**?

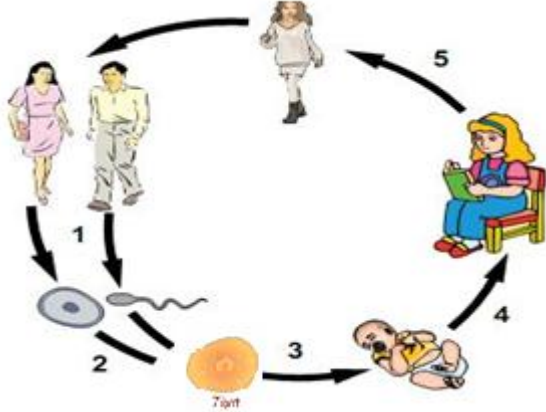
- A) IV Adenin nükleotidi olabilir.
B) II Timin nükleotidi olabilir.
C) DNA nın en küçük yapı taşlarını oluştururlar.
D) Aradaki bağlar zayıf hidrojen bağlarıdır.

13. Ergenlik dönemine giren çocuğuyla ilgili sorun yaşayan bir baba uzman kişiye başvuruyor ve konuyla ilgili öneriler alıyor.

Aşağıdakilerden hangisi bu uzmanın söylemlerinden biri olamaz?

- A) Çocuğunuzla arkadaş gibi sohbet edin.
- B) Söylediklerini kabullenmeden reddedin.
- C) Ona karşı anlayışlı davranın, empati kurun.
- D) Problemlerin nedenine inerek çözüm yolları bulun.

14.



Öğretmen yukarıdaki resmi tahtaya asmış ve öğrencilerinden bu resmi yorumlamalarını istemiştir.

Bilge: Şekil insanın eşeyli üremesiyle ilgilidir ve yalnızca mayoz bölünme görülür.

Merve: 1. Olay üreme hücrelerinin oluşmasını sağlar ve ergenlik döneminde başlar.

Eren: 2. Olayda spermin çekirdeği yumurtanın çekirdeği ile birleşir.

Ali: 3, 4, 5 evrelerinde mitoz bölünme görülür ve ergenlik döneminde başlar.

Öğrencilerin yorumları yukarıdaki gibi olduğuna göre, hangi öğrencinin yorumu yanlıştır?

- A) Bilge, Merve
- B) Ali, Bilge
- C) Merve, Eren
- D) Ali, Eren

15. I- Basit makineler kuvvetten kazanç sağlayabilir.

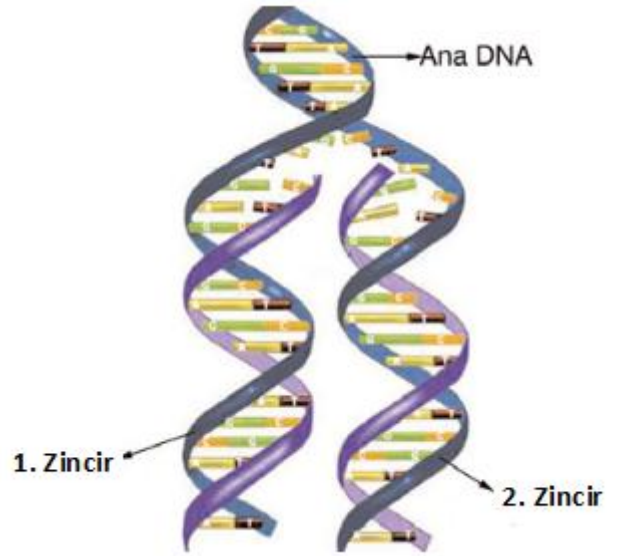
II- Basit makinelerde aynı zamanda hem kuvvetten kazanç hem de yoldan kazanç vardır.

III- Basit makineler kuvvetin yönünü değiştirebilir.

Basit makinelerle ilgili yukarıda verilen bilgilerden hangileri doğrudur?

- A) Yalnız I
- B) I ve II
- C) I ve III
- D) I,II ve III

16.



DNA' nın kendini eşlenmesi ile ilgili;

I. Ana DNA' nın her bir ipliği tamamlanır.

II. Eşlenme sonunda iki yeni DNA oluşur.

III. Ana ve yeni DNA' ların genetik şifresi aynı olur.

açıklamalarından hangileri doğrudur?

- A) Yalnız I
- B) I ve II
- C) I ve III
- D) I,II ve III

ŞANLIURFA İL MİLLİ EĞİTİM MÜDÜRLÜĞÜ AR-GE BİRİMİ ÇALIŞMASIDIR

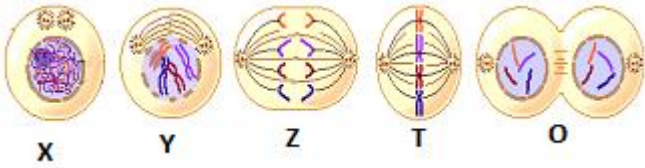
17.

Mitoz bölünmenin canlılar için önemine örnekler verir misiniz?

Rana Öğretmenin öğrencilerine yönelttiği bu soruya aşağıdaki öğrencilerinden hangisinin verdiği cevap yanlıştır?

- A) Zeynep: Büyüme ve gelişmeyi sağlar.
 B) Mehmet: Üreme hücrelerinin oluşmasını sağlar
 C) Yusuf: Canlılarda yenilenmeyi sağlar.
 D) Ayşenur: Tek hücrelilerde üremeyi sağlar.

18.

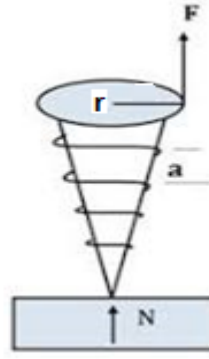


Yukarıda mitoz hücre bölünmesinin evreleri karışık olarak verilmiştir.

Bu evrelerin doğru sıralanışının yapılabilmesi için hangi iki evrenin yerinin değiştirilmesi gerekir?

- A) Z ile T
 B) Y ile Z
 C) X ile Y
 D) T ile O

19.



Öğrenciler Fen Bilimleri dersinde yandaki basit makine ile ilgili bilgi kartları hazırlamaktadır.

Bu bilgi kartlarından hangisindeki bilgiler yanlıştır?

A)

Şekilde vida verilmiştir. Vida başı bir tam dönüş yaptığında vida, a kadar yol alır.

B)

Vidayı döndürmek için uygulanan F kuvvetinin yaptığı iş, vida tahtaya girerken N kuvvetinin yaptığı işe eşittir.

C)

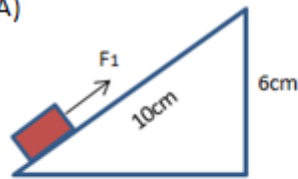
Vida eğik düzlemin spiral şekline getirilmiş halidir.

D)

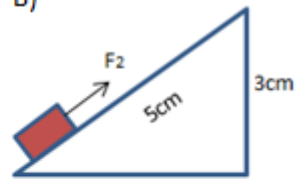
Et kıyma makinesi, kahve değirmeni buna örnek verilebilir.

20. Aşağıdaki özdeş yüklerle oluşturulan eğik düzlemlerden hangisindeki kuvvet daha küçüktür?

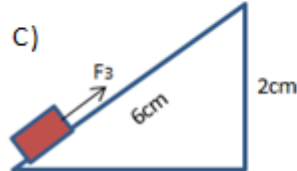
A)



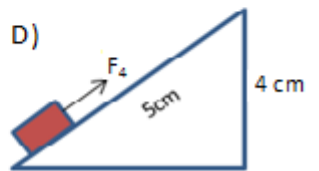
B)



C)



D)



1. A : How about watching *Titanic*?
B : ----- I never watch romances.

A) Great idea! B) I'd love to.
C) Why not? D) I 'm sorry.
2. A : What sort of music do you like most?
B : -----.

A) I don't think so
B) I can't stand pop music
C) Rap is my favourite
D) I prefer watching thriller
3. A: I want to be physically active but I don't have any idea.
B: We are going to play tennis in this afternoon. --- ?
A: Thank you for invitation. It is a good idea!

A) Would you like to go to movie?
B) What about joining us?
C) How about listening to pop music?
D) Let's watch tennis tournament on TV.

..... the vegetable oil in a deep frying pan. garlic, brown onion and green pepper. for 2 minutes or until onion is just softened.

4. Yukarıdaki boşluklara gelebilecek uygun şıkkı işaretleyiniz.

A) Pour / add / Stir
B) Stir / slice / Dice
C) Chop / peel / Stir
D) Spread / add / Bake



5. Yukarıdaki ifadeyi söyleyen biri aşağıdaki sporlardan hangisini tercih etmiştir?

- A) Basketball, tennis
B) Football, volleyball
C) Cycling, basketball
D) Zorbing, bossaball

6. A: Sevil , what do you want to do tonight ?
B: ----.
A: I heard a good horror film .
B: Oh, I love horror films. What time does it start?
A: At 07.30 p.m.
B: Will you come and ----- ?
A: OK. I will take you at 6 p.m.

A) I would like to see a movie / back me up
B) I would like to go to football match / count on
C) I must visit my parents / back me up
D) I would like to see a movie / pick me up

7. To make some dough; you should use some water, yeast and -----.

- A) jam
B) vegetable
C) flour
D) oil

8. A: What are you going to do this evening Akın?

B: Ali gave me some of his films. I am going to watch a movie.

A: ----- ?

B: I think they are mostly comedies.

- A) What kind of movies are they
- B) Will you come and pick me up
- C) What about sci-fi movies
- D) Do you like horror films

9. A: We are organizing a nature walking activity. Would you like to join us?

B: -----


A: Why? I know you are free.

B: I don't like nature walking. I think it is boring.

- A) That would be great!
- B) I am sorry but I can't!
- C) When are you going to go?
- D) What time are you going to go?

10.A : How do you prefer your chicken ?

B : I usually prefer grilled.



11. A: Why don't you ride your bicycle?

B: -----.

A: This is not a problem. You can ride it.

B : But I want to buy it and it is going to be red.

- A)I don't have a mudguard
- B)I like cycling very much
- C)I don't like cycling
- D)I like zorbing

12.A: -----

B: AjdaPekkan.

A: -----

B: Because her voice is impressive.

- A) What is your favourite dish?/ why?
- B) What is your favourite singer?/ why?
- C) What is your favourite singer?/when?
- D) What is your favourite footballer?/ where?

13.A : ----- ?

B : I don't like eating vegetables.

- A) What would you like to eat for dinner
- B) Do you prefer grilled fish for dinner
- C) What about having fried chicken
- D) Shall we eat boiled carrots and broccoli

14. I need a potato for potato chips. First I will ----- it. Then dice it and finally fry it.

- A) fry
- B) spread
- C) peel
- D) add

15.A : ----- ?

B : He likes classical music.

- A) What kind of music does your father like
- B) What is your favourite music
- C) Where does your father listen to music
- D) When is the concert

16.A : Why don't we eat some English food for dinner ?

B : What is English food ?

A : Fish and chips.

B : Sorry but -----.

- A) I have breakfast every morning
- B) I am very hungry at the moment
- C) I hardly ever have lunch
- D) I don't want to eat fried food

17.A : What do you think about "AY LAV YU"? They say it's a great comedy.

B : I don't like comedy. ----- ?

A : What about "Kızım İçin"? It's a drama.

- A) Do you really enjoy thrillers
- B) Why do you like sci-fi
- C) Would you like to watch a horror film
- D) Do we have another choice

18.A : What are the ingredients of pilaf ?

B : They are -----.

- A) beef, cabbage and carrot
- B) lentil, yeast and leek
- C) rice, orzo and butter
- D) potatoes, milk and pepper

19 ve 20. sorular aşağıdaki okuma parçasına göre cevaplayınız.



19. According to the text , -----.

- A) You need some meat for vegetable pizza
- B) You can put different vegetables
- C) You can use a rolling pin to bake it
- D) You need a saucepan and a frying pan

20. You do not need ----- to make a vegetable pizza.

- A) any beef, lamb and lentil
- B) any mushrooms and cheese
- C) any flour, salt and cooking oil
- D) a bowl and an oven

1. Konsolosluklar ve ticaret şehri Manastır, o dönemde aralarında çekişme olan çeşitli din ve milliyetten insanları barındırıyordu. Sırbistan, Bulgaristan ve Yunanistan, kendi kiliseleri aracılığıyla bölgeye hâkim olmak istiyordu.

Yukarıda verilen bilgilere göre aşağıdaki durumlardan hangisi söylenemez?

- A) Mustafa Kemal'in idadi yıllarının geçtiği şehirdir.
- B) Birçok ülkenin çıkar çatışmasının olduğu bir bölgededir.
- C) Ticaret açısından gelişmiş çok kültürlü bir yapıdadır.
- D) Etnik ve dini farklılıkları olan kişiler bir arada yaşamaktadır

2. "Artık bir avuç Rumeli toprağına sığındık. Sırp, Yunan ve Bulgar komitacılarını besleyen Ruslar, dedelerimizin kanları pahasına aldıkları Türk yurdunu bizden koparma gayreti içindedir. Bu bölgedeki orduların komutanları çaresizlik ve yetmezlik içindedir. Başka milletlerin aydınları çalışıp milletlerini uyarırken nerede bizim düşünürlerimiz? Arkadaşlar bize büyük görev düşüyor."

Mustafa Kemal'in yukarıdaki sözünden aşağıdakilerden hangisi çıkarılamaz?

- A) Rusların balkan milletlerine destek verdiği.
- B) Osmanlı devletine karşı bağımsızlık hareketleri olduğu.
- C) Osmanlı ordusundaki komutanların yetersiz ve çaresiz olduğu.
- D) Osmanlı aydınlarının çeşitli fikir akımları ortaya koyduğu.

3. 1871 yılında birliğimizi tamamladık; ama ekonomik olarak henüz istediğimiz varlığı gösteremedik. Sömürge yarışında yer almak için Osmanlı Devleti'nin Kuzey Afrika'daki son toprak parçası Trablusgarp'a asker çıkardık. Askerî başarı kazanamamamıza rağmen Balkan Savaşlarının çıkması işimize yaradı ve barış masasından kazançlı çıktık. Ancak Trablusgarp tecrübesiyle Osmanlı ülkesinden toprak almanın kolay olmadığını gördük. Bu konuda büyük devletlerin desteğine ihtiyacımız var.

İtalya kralı Vittorio Emanuel'in yukarıdaki sözünden aşağıdakilerden hangisi çıkarılamaz?

- A) Osmanlı'nın kuzey Afrika'da kalan son toprak parçası Trablusgarp'tır.
- B) İtalya askeri olarak başarı gösterememiştir.
- C) Osmanlı devleti balkan savaşının çıkması ile diplomatik başarısızlık yaşamıştır.
- D) İtalya büyük devletlerin desteğine ihtiyaç duymamaktadır.

4. Osmanlı devletinin Almanya'nın yanında savaşa girmesinde;

- I. Kaybettiği toprakları geri alabilme
- II. Kapitulasyonları kaldırabilme
- III. Devleti eski gücüne kavuşturabilme
- IV. Sömürgeler elde etme

Hedeflerinden hangilerini gerçekleştirmek istemişlerdir?

- A) I ve IV
- B) I ve II
- C) II ve III
- D) I, II ve III

5. Mondros Ateşkes Antlaşması'nın aşağıdaki maddelerinden hangisi, Türklerin denetiminde kalan Anadolu topraklarının da elden çıkabileceği anlamına gelmektedir?

- A) Osmanlı Devleti diğer devletlerle bütün ilişkilerini kesecektir.
- B) İtilaf devletleri, güvenliklerini tehdit edici durumlarda stratejik noktaları işgal edilebilecektir.
- C) Hükümet haberleşmesi dışında, telsiz ve telefonlar itilaf Devletleri'nce denetlenecektir.
- D) Bütün demiryolları, itilaf Devletleri'nin denetimi altına alınacaktır.

6.

...Ertesi sabah askeri mızıka ile uyandım. Pencereden baktığım zaman bir alay geçiyordu. Önlerinde bayrak tutan kudretli bir asker vardı. Askerler, kıyafetleri eski olmakla birlikte gayet ağırbaşlı görünüyorlardı. Ne garipti. Adeta bir perde eski başıbozukların üstünden kalkmış aynı sahnede birdenbire düzenli bir Türk ordusu meydana gelmişti.

(Halide Edip Adıvar, Türkün Ateşle İmtihanı, s161-162)

Parçada geçen başıbozuk tabiriyle ne kastedilmektedir?

- A) Düşman Kuvvetleri
- B) Düzenli Ordu
- C) Kuvayı Milliye
- D) Hilafet Kuvvetleri

SANLIURFA İL MİLLÎ EĞİTİM MÜDÜRLÜĞÜ AR-GE BİRİMİ ÇALIŞMASIDIR

7. Mondros Ateşkes Antlaşması'ndan sonra Anadolu'da başlayan işgallerden sonra Anadolu'da bu işgallere destek veren çeşitli zararlı cemiyetler kurulmuştur. Milli Varlığa Düşman Cemiyetler adıyla bilinen bu cemiyetlerden sadece biri bağımsız bir devlet kurmayı amaçlamıştır.

Söz konusu bu cemiyet aşağıdakilerden hangisidir?

- A) Teali İslam Cemiyeti
B) Kürt Teali Cemiyeti
C) Wilson Prensipleri Cemiyeti
D) Sulh ve Selameti Osmanîye Fırkası

8.



Yukarıdaki haritada numaralarla (1-2-3-4) işaretlenen yerler, aşağıdaki hangi devletlerin işgal bölgeleri olarak belirlenmiştir?

- | | | | |
|---------------|------------|------------|------------|
| 1 | 2 | 3 | 4 |
| A) Yunanistan | İtalya | Fransa | Ermenistan |
| B) İtalya | Yunanistan | Ermenistan | Fransa |
| C) Fransa | Ermenistan | Yunanistan | İtalya |
| D) İtalya | Ermenistan | Fransa | Yunanistan |

9.

M.Kemal, Sofya Askeri Ataşeliği'ne görevlendirildi. O günlerde Sofya'da sosyal hayat çok canlıydı. Üst düzey yetkililerin katıldığı danslı, yemekli toplantılarda M.Kemal, Avrupa devletlerinin temsilcileriyle doğrudan görüşme ve fikirlerini paylaşma imkanı buldu.

Yukarıdaki parçada M.Kemal'in Sofya'daki faaliyetlerine dair bilgiler verilmiştir. Bu bilgilerden yola çıkarak Sofya M.Kemal'in hangi yönünün gelişmesine katkı sağlamıştır?

- A) Askeri B) Diplomasi C) Ekonomik D) Demokrasi

10. Moskova Anlaşması;

--Bir devletin tanımadığı anlaşmayı diğeri de Tanımayacak.

--Sovyetler birliği misak-ı milliye tanıyacak

--Kars,Ardahan TBMM'ye Batum Gürcistan'a bırakılacak.

Buna göre;

I.Sevr anlaşması reddedilmiştir.

II. Sovyetler birliği misak-ı milliye tanıyan ilk ülkedir.

III. Misak-ı milliden ilk taviz verilmiştir.

Yargılarından hangisi veya hangilerine ulaşamaz?

- A) I ve II B) I ve III C) Yalnız II D) Yalnız III

11. TBMM Londra konferansı'na davet edilince M.Kemal buradan hiçbir sonuç alınamayacağını biliyordu. Buna rağmen İngilizlerin, Türkler barış istemiyor tezini çürütmek ve misak-ı milliye dünya'ya duyurmak için bu toplantıya katılma kararı verdi.

Buna göre;

I.Toplantıya katılarak barış yanlısı olduğumuzu gösterdik.

II.Misak-ı milliye dünya'ya kabul ettirdik.

III.İngilizler haklılığımızı kabul ettiler.

Yargılarından hangisine veya hangilerine ulaşılabilir?

- A) I ve II B) Yalnız I C) Yalnız II D) I. II ve III

12. " Bir kişinin öğrenim gördüğü okullar, şehir ve kültürel yapı, kişinin gelişimine ve kişiliğinin oluşumuna doğrudan etki eder. Mustafa Kemal'in Selanik gibi bir şehirde doğup büyümesi ve öğrenim görmesi kesinlikle onun Kurtuluş Savaşı'nda önder olmasında büyük bir paya sahiptir." **Diyen bir öğretmen Mustafa Kemal ile ilgili aşağıdakilerden hangisini söylerse bu düşüncesiyle ters düşmüş olur?**

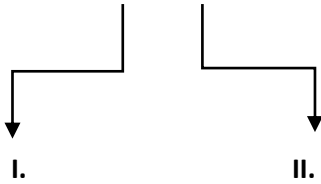
- A) Mustafa Kemal çok yönlü bir kişiliğe sahiptir.
B) Mustafa Kemal zengin fikirlere sahiptir.
C) Mustafa Kemal ileri görüşlü bir kişidir.
D) Mustafa Kemal tek tip düşünmeyi sever.

- 13.
- Hükümet haberleşmesi dışında telsiz, telgraf ve kabloların denetimi İtilaf Devletlerinin denetimine geçecektir.
 - Toros tünelleri İtilaf devletleri tarafından işgal edilecektir
 - Sınırların korunması ve iç güvenliğin sağlanması için bırakılacak bir miktar kuvvet dışında Osmanlı ordusu derhal terhis edilecektir.

Yukarıda Mondros Ateşkes Antlaşması'nın bazı maddeleri verilmiştir. Bu maddeler aşağıdakilerden hangisi ile ilişkilendirilemez?

- A) Ulaşım
- B) İletişim
- C) Askeri
- D) Ekonomi

14. Zararlı Cemiyetler



Amacı Bizans Devleti'ni yeniden diriltmek. Ege Denizi'nde çeteler kurarak Yunan işgalini kolaylaştırmak.

Amacı İngilizlerin desteğini sağlayarak Saltanat ve Hilafetin devamını sağlamak.

Diyagramda numaralı yerlere aşağıdakilerden hangisi gelmelidir ?

I

II

- | | |
|---|---|
| <ul style="list-style-type: none"> A) Hınçak ve Taşnak B) Kilikyalılar C) Mavri Mivra D) Milli Kongre | <ul style="list-style-type: none"> Pontus Rum İngiliz Muhipleri İslam Teali Reddi ilhak |
|---|---|

15. I.İnönü Savaşı'nın Sonuçları

- I. İsmet Paşa generallik rütbesine yükseldi.
- II. TBMM'e Londra Konferansı'na davet edildi.
- III. İlk anayasamız hazırlandı.
- IV. TBMM'ye olan güven daha da arttı.
- V. İstiklal Marşı Kabul edildi.
- VI. Afganistan ile Dostluk Antlaşması imzalandı.
- VII. Bağımsızlık umudu güçlendi.

Birinci İnönü Zaferi'nin sonuçlarının ulusal ve uluslararası olarak doğru sınıflandırılması aşağıdakilerden hangisidir?

Ulusal	Uluslararası
A) II ve III	I,IV,V,VI,VII
B) I,III,V,VII	II,IV,VII
C) V,VI,VII	I,II,III,IV
D) I,III,IV,V,VII	II ve VI

16.

- Boğazda demirli itilaf donanmasını görünce" Geldikleri gibi giderler" demiştir.
- Çanakkale Cephesi'nde düşmana karşı üstün başarılar elde etmiştir.
- Erzurum Kongresi öncesi milletin çıkarlarını kendi çıkarlarının üstünde tutarak askerlik mesleğinden istifa etmiştir.

Yukarıda verilen gelişmelere M.Kemal'in kişilik özelliğini eşleştirdiğimizde aşağıdakilerden hangisi dışta kalır?

- A) İleri görüşlülük
- B) Teşkilatçılık
- C) Vatanseverlik
- D) Askeri Deha

17. "Mustafa Kemal kararlı ve mücadeleci bir liderdi." diyen bir öğrenci bu görüşünü Mustafa Kemal'in aşağıdaki sözlerinden hangisine dayandıramaz?

- A) "Bununla beraber bütün ümitler kaybolmuş değildir. Memleketi bu durumdan ancak Türk milletinin mukavemet azmi kurtarabilir."
- B) "Milletimizi esir etmek isteyen düşmanları ne yapıp edip yeneceğimize dair güvenim bir dakika olsun sarsılmamıştır."
- C) "Hattı müdafaa yoktur, sathı müdafaa vardır. O satıh bütün vatandır. Vatanın her karış toprağı vatandaşın kanıyla sulanmadıkça terk edilemez."
- D) Dünyada her şey için, hayat için, medeniyet için, başarı için, en hakiki mürşit ilimdir, fendir.

18. Balkanlar'da 19. yüzyılda çok uluslu yapı, konuşulan dil, inançlar zengin bir kültürel yapı oluşmasını sağlamıştı. 19. yüzyıla kadar buradaki milletler huzur ve güven içinde yaşamıştı. Fakat Fransız İhtilalinin etkisiyle ve Osmanlı devleti üzerinde çıkarları olan emperyalist devletlerin buradaki ulusları kışkırtmalarıyla buradaki uluslar bağımsızlık arayışı içerisine girmişlerdir.

Buna göre 19. yüzyılda balkanların durumu ile ilgili aşağıdakilerden hangisi söylenemez?

- A) Kültürel birliğin olması Fransız İhtilalinden etkilenilmesine sebep olmuştur.
- B) Sömürgeci devletlerin etkisi altında kalan uluslar vardır.
- C) Milliyetçilik isyanlarına açık bir sosyal yapıya sahiptir.
- D) Osmanlı Devleti parçalanma tehdidi ile karşılaşmıştır.

19.



Öğretmen çocukların sorduğu hangi soruya cevap vermiş olabilir?

- A) Sevr Barış Antlaşması neden imzalandı?
- B) Hiyaneti Vataniye kanunu neden çıkarıldı ?
- C) Ankara neden başkent seçildi?
- D) Manda ve himaye neden kabul edilmedi?

20.

Selanik Rumeli'de Ege denizinin kıyısında yer alan bir Osmanlı kentiydi. Selanik, Üsküp, Belgrat ve İstanbul'a demiryolu ile bağlanmıştı. Selanik şehrinde Türklerle beraber Rum, Ermeni, Bulgar, Sırp ve Yahudi gibi milletler bir arada yaşamaktaydı. Türkler ise bu milletlere göre çoğunlukta idi. Bu çok uluslu yapı konuşulan dil, inançlar, gelenek ve görenekler ülkede zengin bir kültürel yapının oluşmasını sağladı.

Yukarıda verilen bilgilerde Selanik şehri ile ilgili aşağıdaki sorulardan hangisinin cevabı yoktur?

- A) Selanik şehri hangi devletin sınırları içindedir?
- B) Osmanlı Devletinin başkenti ile demiryolu bağlantısı var mıdır?
- C) Selanik şehrinin sosyal yapısı nasıldır?
- D) Selanik şehrinde ticari hayat nasıldır?



BU DENEME SINAVI

ŞANLIURFA İL MİLLİ EĞİTİM MÜDÜRLÜĞÜ

AR-GE BİRİMİ TARAFINDAN YÜRÜTÜLEN

“EĞİTİMDE BAŞARIYI ARTTIRMA PROJESİ” KAPSAMINDA

GÖNÜLLÜ ÖĞRETMENLER KAZANIM TESTİ HAZIRLAMA EKİBİ TARAFINDAN HAZIRLANMIŞTIR.

ŞANLIURFA İL MİLLİ EĞİTİM MÜDÜRLÜĞÜ

HER CUMA <http://sanliurfaarge.meb.gov.tr> ADRESİNDE 8. SINIFLAR İÇİN

KAZANIM TESTLERİ YAYINLAMAKTADIR.



Görüş ve önerilerinizi urfaebap63@gmail.com adresine yazabilirsiniz.



twitter.com/UrfaMem



[Facebook.com/sanliurfamem63](https://facebook.com/sanliurfamem63)